

# Contrôle continu de logique L1 n°1 - Semestre 2

Lundi 7 Mars 2015

Tous les documents sont autorisés.

Feuille imprimée *recto&verso*.

Toutes les réponses doivent être *justifiées* et *détaillées*.

## 1 Méthode des arbres

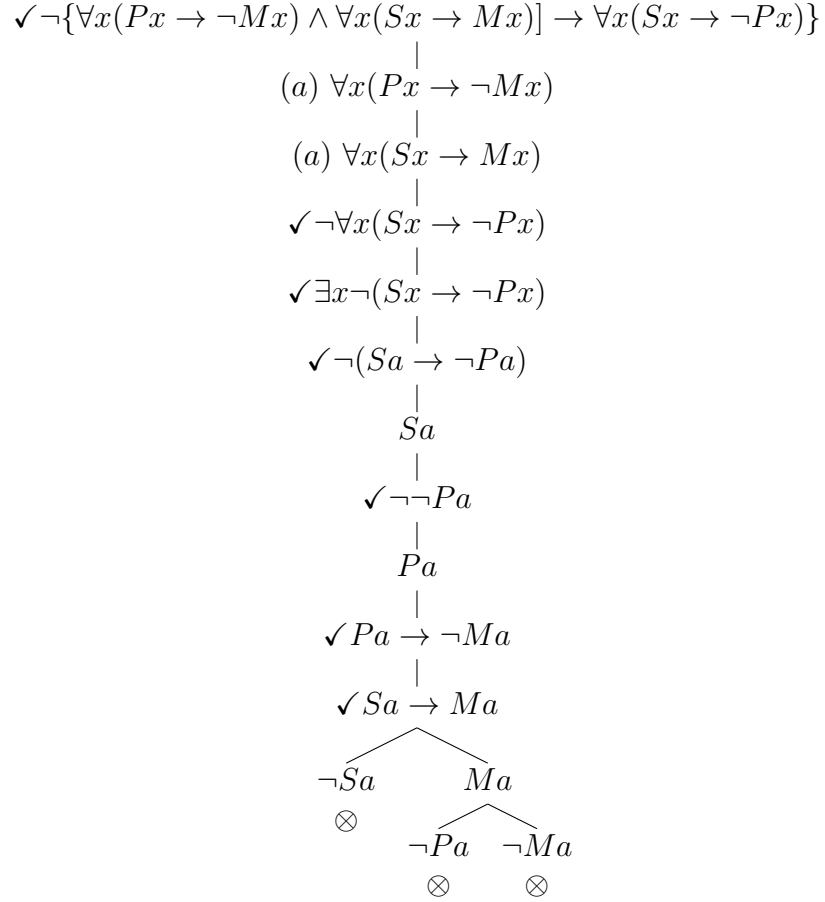
### 1.1 Vérités logiques ? (7 pts)

Déterminer si chacune des formules suivantes est une vérité logique. Si une formule n'est *pas* une vérité logique, donner alors un *modèle* (spécification d'un domaine et interprétation des lettres de prédicat) dans laquelle cette formule est *fausse* (et le prouver en passant par le langage *Prop*).

$$\begin{array}{l} 1. \forall x[(Fx \wedge Hx) \rightarrow (Fx \vee Hx)] \\ \checkmark \neg \forall x[(Fx \wedge Hx) \rightarrow (Fx \vee Hx)] \\ \quad | \\ \checkmark \exists x \neg [(Fx \wedge Hx) \rightarrow (Fx \vee Hx)] \\ \quad | \\ \checkmark \neg [(Fa \wedge Ha) \rightarrow (Fa \vee Ha)] \\ \quad | \\ \checkmark (Fa \wedge Ha) \\ \quad | \\ \checkmark \neg (Fa \vee Ha) \\ \quad | \\ Fa \\ \quad | \\ Ha \\ \quad | \\ \neg Fa \\ \quad \otimes \end{array}$$

La formule 1. est une vérité logique. Elle n'admet aucun contre-exemple.

$$2. [\forall x(Px \rightarrow \neg Mx) \wedge \forall x(Sx \rightarrow Mx)] \rightarrow \forall x(Sx \rightarrow \neg Px)$$



La formule 2. est une vérité logique. Elle n'admet aucun contre-exemple.

$$3. \exists x(Hx \wedge Sx) \rightarrow \forall x(Hx \rightarrow Sx)$$

$$\begin{array}{c}
\checkmark \neg[\exists x(Hx \wedge Sx) \rightarrow \forall x(Hx \rightarrow Sx)] \\
| \\
\checkmark \exists x(Hx \wedge Sx) \\
| \\
\checkmark \neg \forall x(Hx \rightarrow Sx) \\
| \\
\checkmark \exists x \neg(Hx \rightarrow Sx) \\
| \\
\checkmark Ha \wedge Sa \\
| \\
Ha \\
| \\
Sa \\
| \\
\checkmark \neg(Hb \rightarrow Sb) \\
| \\
Hb \\
| \\
\neg Sb
\end{array}$$

Cette formule n'est *pas* une vérité logique. Il y a un modèle dans lequel elle est fausse – il est donc faux qu'elle soit *toujours vraie*. Dans un domaine

$$\mathcal{D} : \{a, b\}$$

et avec l'interprétation suivante des lettres de prédicat :

$$H : \{a, b\}$$

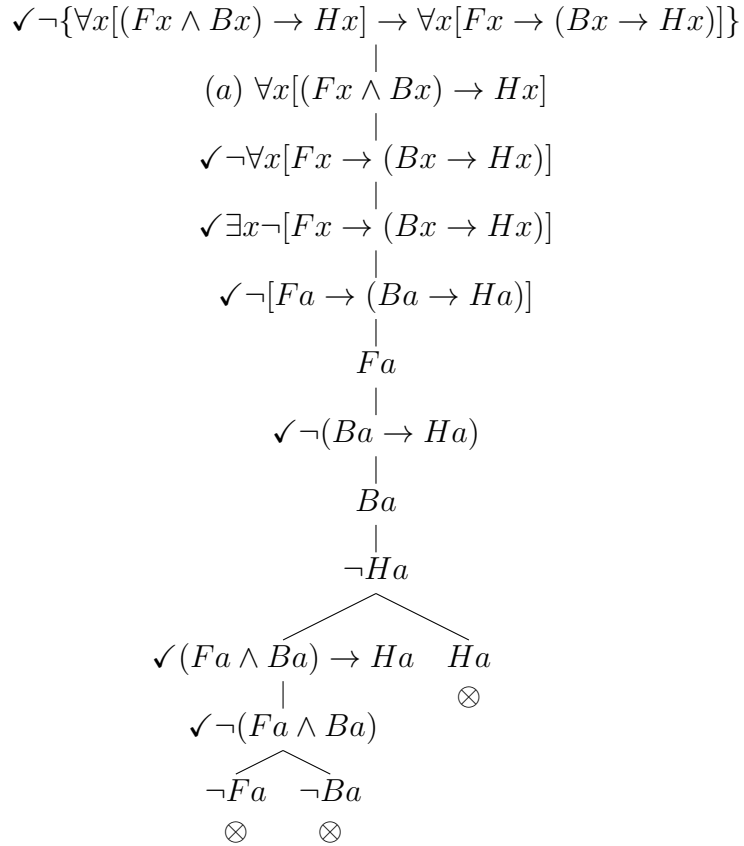
$$S : \{a\}$$

la formule 3. est fausse. On le vérifiera en donnant une ligne de la table de vérité de cette formule dans laquelle le connecteur principal est faux :

$$[(Ha \wedge Sa) \vee (Hb \wedge Sb)] \rightarrow [(Ha \rightarrow Sa) \wedge (Hb \rightarrow Sb)]$$

L'antécédent est vrai (le premier disjunctif étant vrai), le conséquent faux (le deuxième conjunctif étant faux).

$$4. \forall x[(Fx \wedge Bx) \rightarrow Hx] \rightarrow \forall x[Fx \rightarrow (Bx \rightarrow Hx)]$$

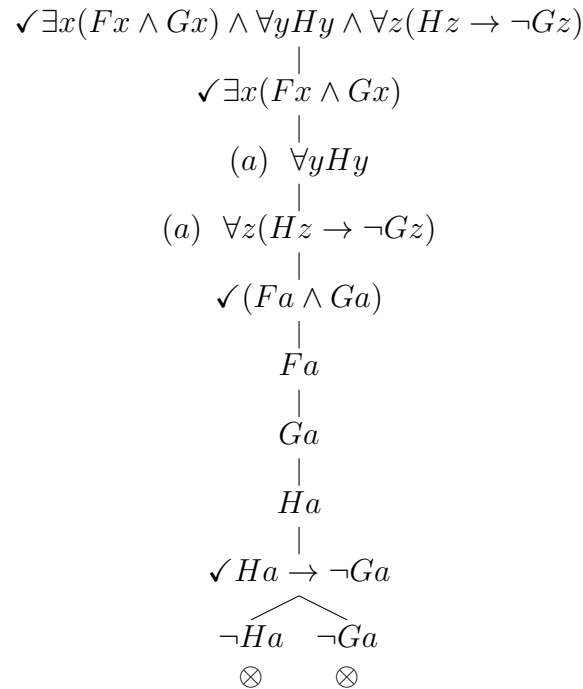


La formule 4. est une vérité logique. Elle n'admet aucun contre-exemple.

## 1.2 Contradictions logiques ? (4 pts)

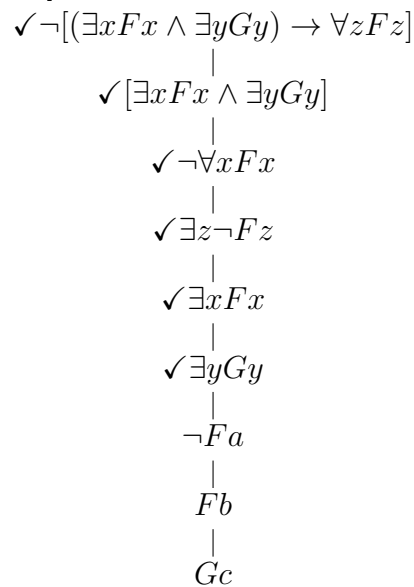
Déterminer si chacune des formules suivantes est une contradiction logique. Si une formule n'est *pas* une contradiction logique, donner alors un *modèle* (spécification d'un domaine et interprétation des lettres de prédicat) dans laquelle cette formule est *vraie* (et le prouver en passant par le langage *Prop*).

1.  $\exists x(Fx \wedge Gx) \wedge \forall yHy \wedge \forall z(Hz \rightarrow \neg Gz)$



Toutes les branches de l'arbre ferment, la formule est une contradiction logique.

2.  $\neg[(\exists xFx \wedge \exists yGy) \rightarrow \forall zFz]$



Cette formule n'est *pas* une contradiction logique. Il y a un modèle dans lequel elle est vraie – il est donc faux qu'elle soit *toujours fausse*. Dans un domaine :  $\mathcal{D} : \{a, b, c\}$

et avec l'interprétation des lettres de prédicat suivante

$F : \{b\}$

$G : \{c\}$

la formule est vraie. Nous pouvons donner la formule équivalente (dans ce modèle) suivante pour le vérifier :

$$\neg\{[(Fa \vee Fb \vee Fc) \wedge (Ga \vee Gb \vee Gc)] \rightarrow (Fa \wedge Fb \wedge Fc)\}$$

L'implication entre accolade est fausse, sa négation est vraie : la formule peut donc être vraie.

### 1.3 Ensembles consistants ? (3 pts)

Déterminer si chacun des ensembles suivants de formules est consistant. Si un ensemble est consistant, donner alors un modèle dans lequel chaque formule de cet ensemble est *vraie*.

1.  $\{\forall xFx, \exists xGx, \neg\forall x(Tx \rightarrow Gx)\}$

$$\begin{array}{c}
 (a, b) \quad \forall xFx \\
 | \\
 \checkmark \exists xGx \\
 | \\
 \checkmark \neg\forall x(Tx \rightarrow Gx) \\
 | \\
 \checkmark \exists x\neg(Tx \rightarrow Gx) \\
 | \\
 Ga \\
 | \\
 \checkmark \neg(Tb \rightarrow Gb) \\
 | \\
 Tb \\
 | \\
 \neg Gb \\
 | \\
 Fa \\
 | \\
 Fb
 \end{array}$$

Cet ensemble de formule est consistant – ces formules sont notamment simultanément vraies dans le modèle suivant :

$\mathcal{D} : \{a, b\}$

$F : \{a, b\}$

$G : \{a\}$

$T : \{b\}$

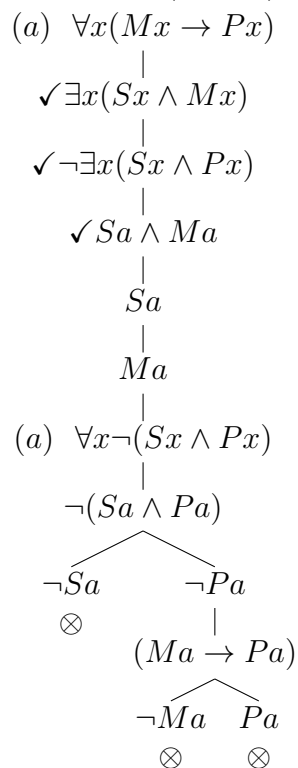
On peut le prouver à l'aide de cette formule (qui lui est équivalente dans ce modèle) :

$$(Fa \wedge Fb) \wedge (Ga \vee Gb) \wedge [\neg(Ta \rightarrow Ga) \vee \neg(Tb \rightarrow Gb)]$$

Chaque conjoint est vrai, la formule est donc vraie.

2.  $\{\forall x(Mx \rightarrow Px), \exists x(Sx \wedge Mx), \neg\exists x(Sx \wedge Px)\}$

Pour trouver si l'ensemble est consistant (ou non) nous dressons l'arbre suivant :



Cet ensemble de formules est inconsistent : il est impossible que les formules qui en sont les éléments soient simultanément vraies.

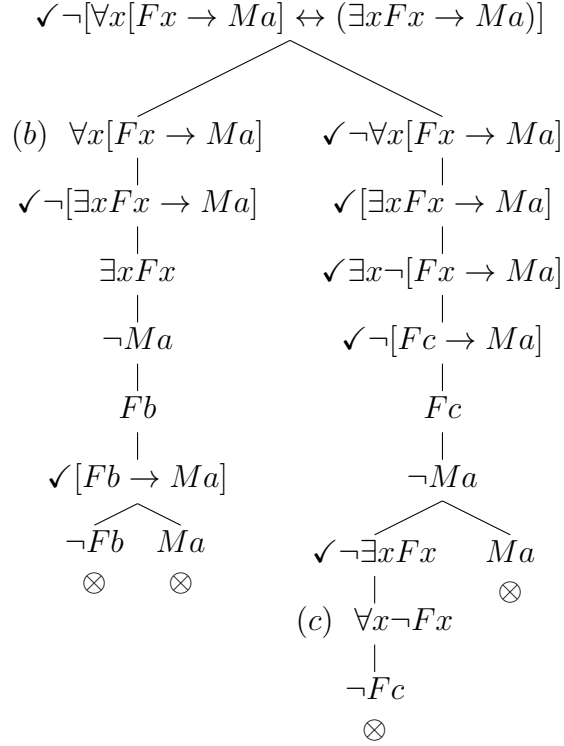
### 1.4 Équivalence logique ? (3 pts)

Déterminer si la formule  $\forall x[Fx \rightarrow Ma]$  est logiquement équivalente à la formule  $(\exists xFx \rightarrow Ma)$ .

Il s'agit donc d'évaluer la formule suivante :

$$\forall x[Fx \rightarrow Ma] \leftrightarrow (\exists xFx \rightarrow Ma)$$

L'arbre prendra alors l'allure suivante :



Toutes les branches de l'arbre ferment : la formule  $\forall x[Fx \rightarrow Ma]$  est bien logiquement équivalente à la formule  $(\exists xFx \rightarrow Ma)$ .

## 2 Traduction (3 pts)

Transcrire les phrases suivantes dans le langage *Préd* :

1. Si Marie est philosophe, alors il y a au moins un sage qui l'aime.

$$Fa \rightarrow \exists x(Sx \wedge Lxa)$$

2. Tout le monde est méchant, donc Socrate est méchant.

$$\forall xMx \rightarrow Ma$$



3. Tous les amis de Maxime sont soit fous, soit amis avec tout le monde.

$$\forall x[Axa \rightarrow (Fx \vee \forall yAxy)]$$